


① Tacha todas las T / el n° 4 / las K

5 R 4 T 6 F 5 D 4 E 6 R 5 4 T 6 6 E 5 R 4 T
6 R 5 E 4 R 6 T 5 E 4 R T E 6 R 5 4 T 6 I F
A S F F 4 F 6 A 5 S 4 F 6 A 5 S 4 Q W E 5 R
4 T 6 Q 5 W 4 R 6 Q 5 W E 4 R 6 Q 5 W I
R Q 3 W 2 E I R Q 3 W 2 I R Q 3 2 W I 5
I T A 5 4 S 6 F 5 A 4 F I A 3 B A 3 B A B 4
C 4 D 5 E F 4 G 6 5 H 4 Y 4 J U 6 5 I O 4 P
6 L I O 5 I U 6 5 Q 5 E 4 R T 4 U 5 I 4 O 4
K 4 J 4 Y U 4 O 4 L 5 I 4 O 5 L 4 K P 4 4 O
5 I 3 O 2 I Ñ 3 K 4 L 4 A 5 S 4 I F D E 5 R
4 F I B I C 5 D E 5 R 4 F 4 E 5 R 4 A 6 S 5
E 4 R 6 E 5 R I F 3 A 2 S I F 3 A 2 I F 3 A
2 Q 4 W 5 E 4 R 6 T 5 R 4 T 4 Y 4 U 5 I 4
O 4 L 4 K 4 J 2 M I N H 2 Y 4 J 4 U 5 I 4 O
4 L I K 3 K 5 K 4 L 6 Y 5 U L 4 Y 9 U 8 I 7
O A S 5 D 7 4 F 4 E 6 R 5 T 8 G 7 R E 5 R

② Señala las diferencias.



③ Tacha el n^o que es igual al de la ~~isda~~ _f...

82325	82545	82735	82325	83325
91348	91358	92348	74625	91348
12712	12212	12712	12812	74512
32684	32644	31684	47512	32684
29435	29445	29434	29435	29935
25755	35770	25755	25760	36765
37102	37112	37102	37002	37202
55055	53035	65056	55055	31203
92274	92274	82274	82273	82277

④. - Escribe 1 debajo de P y 2 debajo de B.


B	R	P	B	R
P	P	B	R	B
R	B	P	P	R
R	B	P	B	B
B	P	R	P	B
B	P	B	R	P

⑤ Escribire el n° que le corresponde a cada figura...

\oplus	\mathbb{R}	\emptyset	Φ
4	3	2	1

\emptyset	Φ	\mathbb{R}	\emptyset	Φ	\mathbb{R}	\emptyset	\oplus	\emptyset	Φ
Φ	\emptyset	Φ	Φ	\emptyset	Φ	Φ	\emptyset	\oplus	Φ
\emptyset	Φ	\mathbb{R}	Φ	\emptyset	\mathbb{R}	Φ	\oplus	Φ	\oplus
Φ	\mathbb{R}	\emptyset	\mathbb{R}	Φ	Φ	\mathbb{R}	\oplus	\oplus	\mathbb{R}
\emptyset	Φ	\mathbb{R}	\mathbb{R}	Φ	\emptyset	\oplus	\emptyset	\mathbb{R}	\oplus

6.- Agrupa de 3 en 3. ¿Cuántos grupos hay? ¿Cuántas estrellas hay en total? ¿Cuántas quedarán sin agrupar?



8. Invierte tu atención, el n^o tapando el original.

6 2 5 el inverso es

4 7 6 8 2 el inverso es

6 9 1 7 3 el inverso es

7 2 6 5 6 3 7 el inverso es

4 9 7 8 4 6 4 6 5 el inverso es

6 7 4 9 4 2 5 3 6 el inverso es

5 4 1 3 6 8 2 6 7 el inverso es

6 4 8 6 6 2 5 1 3 el inverso es

9. - Escribir el n.º q. falta lo más rápido que puedas.

14	17	6	9	26	3
20	10	32	34	23	15
13	2	28	24	35	29
5	22	36	33	18	11
21	19	4	27	1	8
7	16	12	31	25	

1	21	9	14	17	3
8	18	34	25	27	11
13	31	4	20	6	23
26	30	32	15	29	5
7	12	28	36	19	22
16	2	24	10	35	

14	17	6	9	26	3
20	10	32	34	23	15
13	2	28	24	35	29
30	22	36	33	18	11
21	19	4	27	1	8
7	16	12	31	25	


1	21	9	14	17	3
8	18	34	25	27	11
13	31	4	20	6	23
26	30	32	33	29	5
7	12	28	36	19	22
16	2	24	10	35	

Tareas en casa




Miro la agenda par ver lo que tengo que hacer

Preparo todo el material que voy a necesitar: libros, cuadernos, lápices,...



Repaso lo que hemos dado hoy en el colegio


Hago las tareas, fijándome muy bien en lo que me piden



abc

Cuido la letra y la presentación

Repaso para comprobar que lo he hecho todo y lo he hecho bien



Recojo todo lo que he utilizado y preparo la mochila para el día siguiente

¡Ya he terminado! Ahora puedo jugar y disfrutar de mi tiempo libre

